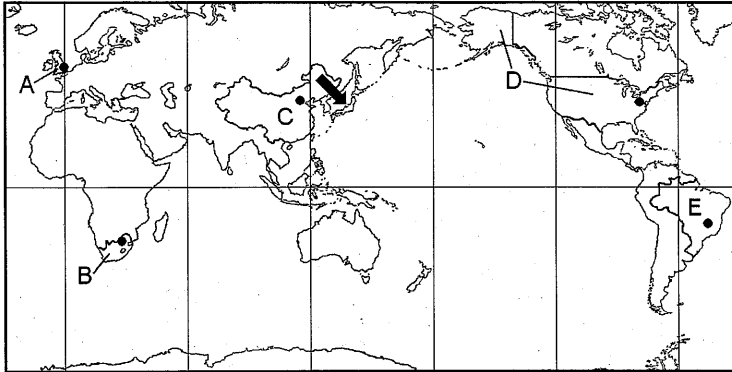


- 1 答えは、すべて、解答用紙の決められた欄に書き入れなさい。
- 2 与えられたいくつかの事項のうちから答えを選ぶ場合は、記号で書きなさい。
- 3 問題用紙は2枚あります。

1 次の略地図1、2と資料1～3、図を見て、後の1～3の問いに答えなさい。

略地図1



略地図2

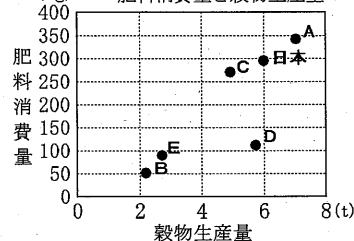


資料1 各国の国土面積と国土面積に占める耕地の割合

項目	国	日本	A	B	C	D	E
国土面積 (万km ²)		38	24	122	960	963	851
耕地の割合 (%)		11	24	13	14	19	8

(「世界国勢図会 2003/04」より作成)

資料2 耕地1haあたりの肥料消費量と穀物生産量



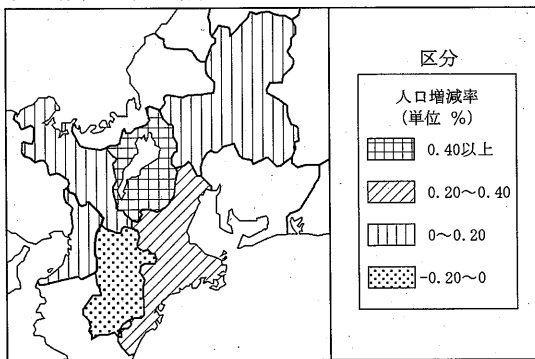
(「2002年版 FAO農業生産年報」などより作成)

資料3 8府県における2000年の人口と2001年の人口の比較 (単位: 千人)

府県	項目	2000年の人口	2001年の人口	人口の増減数
岐阜県		2108	2111	3
福井県		829	830	1
大阪府		8805	8818	13
奈良県		1443	1442	-1
三重県		1857	1861	4
愛知県		7043	7087	44
京都府		2644	2646	2
滋賀県		1343	1353	10

(「データでみる県勢2003」より作成)

図 府県別の人口増減率の比較



(参考)

$$\text{人口増減率} = \frac{2001\text{年の人口} - 2000\text{年の人口}}{2000\text{年の人口}} \times 100$$

1 略地図1、2を見て、次の(1)～(4)の問いに答えなさい。

- (1) 略地図1には世界の6大陸が描かれている。略地図2は、北極を中心に大陸を描いたものである。略地図2には描かれていない大陸名を書きなさい。
- (2) 次の [] の文は、略地図1の [] で示した日本付近の風について説明している。(a)～(c)にあてはまる語の組み合わせを、ア～エから1つ選びなさい。

この風は、(a)に吹く(b)の季節風で、(c)側にたくさんの雪を降らせる。

- ア (a) 夏 - (b) 南東 - (c) 太平洋 イ (a) 夏 - (b) 北西 - (c) 日本海
 ウ (a) 冬 - (b) 南東 - (c) 太平洋 エ (a) 冬 - (b) 北西 - (c) 日本海

- (3) 略地図1の●は、A～Eの国の首都の位置を示している。滋賀県が2004年(平成16年)3月4日午前10時のとき、首都が3月3日である国を、すべて選びなさい。
- (4) 略地図1のA～Eの国のうち、1902年に日本が同盟を結んだ国について述べているものを、次のア～エから1つ選びなさい。
 ア ワイマール憲法を制定した。 イ 世界最初の社会主義革命が起こった。
 ウ 世界恐慌時にブロック政策をとった。 エ 国際連盟の本部が置かれた。

2 略地図1と資料1、2を見て、次の(1)、(2)の問いに答えなさい。ただし、資料1、2のA～Eは、それぞれ略地図1のA～Eと同じ国を示している。

- (1) 耕地面積が2番目に広い国を、A～Eから選びなさい。
- (2) 次の①～③で述べていることがすべてあてはまる国を、A～Eから1つ選びなさい。
 ① 国土の一部は、大西洋に面している。
 ② 国土面積はわが国より広く、耕地面積は60万km²以上である。
 ③ 耕地1haあたりの肥料消費量と穀物生産量は、ともにわが国の3分の2以下である。

3 図と資料3を見て、次の(1)、(2)の問いに答えなさい。

- (1) 図は、資料3をもとに6府県の人口増減率を計算し、区分にしたがって作図したものである。残りについても同じ作業を行い、8府県の人口増減率を比較する図を完成しなさい。
- (2) 完成させた図と資料3を見て、次の [] の文の(ア)～(エ)にあてはまる府県名や数字を書きなさい。ただし、人口増減率は、小数第3位を四捨五入して小数第2位まで求めなさい。

滋賀県の人口は、2000年、2001年ともに8府県中(ア)について少ない。しかし、2001年の人口は2000年より(イ)人増加したため、人口増減率では(ウ)%の増加となり、増減率が滋賀県の次に高い(エ)よりも0.1%以上高くなっている。

2 次の略年表と資料1～3、略地図を見て、後の1～7の問いに答えなさい。

略年表

年代	できごと
607	小野妹子が[X]に派遣される。 []
894	遣唐使が停止される。 []
1274	文永の役がおこる。 []
1281	弘安の役がおこる。 []
1404	勘合貿易がはじまる。 []
1894	日清戦争がはじまる。 []
1972	日中共同声明により国交が正常化する。 []

資料1 永仁の徳政令

一 質入れや売買した土地について所領を質に入れて流したり、売買したりすることは、(あ)たちが落ちぶれるもとであるので、今後はいっさいやめよ。すでに売買された所領は、もとの所有者に返すこと。(以下略)

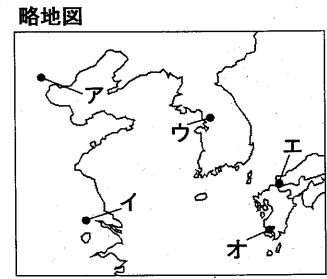
資料2



- 1 略年表の[X]にあてはまる当時の中国の国名(王朝名)を書きなさい。
- 2 略年表のAの時期に、中国から帰国した僧と、その僧がひらいた仏教の宗派との組み合わせを、次のア～エから1つ選びなさい。
ア 日蓮 - 法華宗 イ 栄西 - 臨済宗 ウ 法然 - 浄土宗 エ 最澄 - 天台宗
- 3 略年表のBについて、次の(1)、(2)の問いに答えなさい。
(1) 資料1は、この間に幕府が出した法令である。(あ)にあてはまる語を書きなさい。また、当時の幕府がこの法令を出した理由として適切でないものを、次のア～エから1つ選びなさい。
ア 元寇の時に多額の費用を使った人々に、十分な恩賞を与えることができなかったから。
イ 商業が発達するなか、高利貸しからの借金が返せなくて領地を失う人々が出てきたから。
ウ 惣を結成した人々などが、年貢の軽減や借金の帳消しを求める土一揆を起こしたから。
エ 領地を分割して相続したため、そこからの収入にたよる人々の生活が苦しくなったから。
(2) 資料2は、このころの農業技術の1つである。当時の農村について述べている次の(ア)、(イ)にあてはまる語を書きなさい。

肥料が普及し裏作に麦を作る(ア)が広まるなど、農業技術が進歩し生産が高まった。また、桑・漆・茶などの(イ)作物の栽培もはじまった。

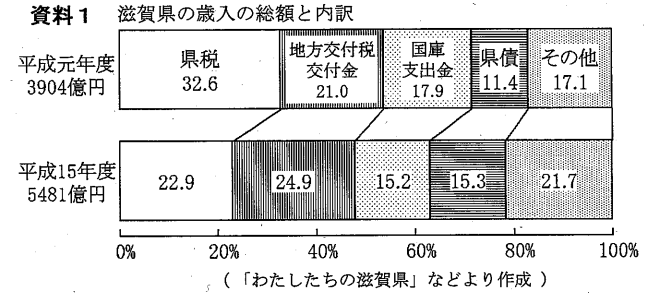
- 4 略年表の①について、次の(1)、(2)の問いに答えなさい。
(1) この貿易で、わが国がおもに輸入したものと輸出したものと組み合わせを、次のア～エから1つ選びなさい。
ア 銅銭・陶磁器 - 銅 イ 毛織物・綿織物 - 金
ウ 生糸・絹織物 - 銀 エ 火薬・鉄砲 - 銀
(2) 資料3の建物は、この貿易をはじめた人物によって建てられたものである。武家文化と公家文化がまじりあって生み出された当時の文化について述べたものを、次のア～エから1つ選びなさい。
ア 運慶は、金剛力士像などの力強い作品をつくった。
イ 世阿弥は、田楽や猿楽を能楽として大成した。
ウ 狩野永徳は、はなやかな屏風絵やふすま絵をえがいた。
エ 松尾芭蕉は、俳諧をりっぱな芸術にまで高めた。



- 5 略年表のCの間に起こった次のア～エの世界のできごとを、年代の古い順に左から書きなさい。
ア インドでセポイたちが反乱を起こした。
イ アメリカで独立宣言が出された。
ウ イギリスがスペインの無敵艦隊を破った。
エ ナポレオンが皇帝の位についた。
- 6 略年表の②の講和条約が結ばれた場所はどこか。略地図のA～オから1つ選びなさい。
- 7 次のア～エは、20世紀のわが国のようすについて述べたものである。略年表の③に最も近いころのようすを、1つ選びなさい。
ア 財閥解体による経済の民主化が進み、大企業の市場占有を禁止する独占禁止法が制定された。
イ 石油輸出国機構の原油価格引き上げによる石油危機で、わが国の経済は大きな打撃を受けた。
ウ 大戦景気により、造船・海運・鉄鋼業で巨額の利益を得た成金とよばれる人々が生まれた。
エ 技術革新などが進む一方で、株価や地価が急上昇するバブル経済とよばれる事態が起こった。

3 資料1、2と図1、2を見て、後の1～3の問いに答えなさい。

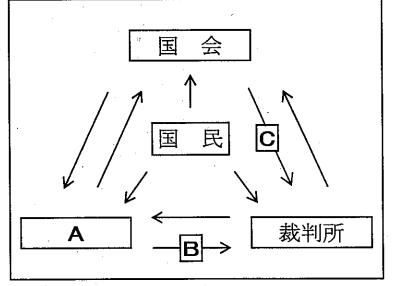
1 滋賀県の歳入に関する資料1を見て、次の(1)、(2)の問いに答えなさい。



- (1) 県税にあたるものを、次のア～オからすべて選びなさい。
ア 法人税 イ 事業税
ウ 自動車税 エ 所得税
オ 相続税
- (2) 平成元年度と平成15年度の滋賀県の歳入を比較した場合、正しいものを、次のア～エから1つ選びなさい。
ア 平成15年度は、歳入の総額が増え、県税の額と県税の割合も増えた。
イ 平成15年度は、県税の額が増え、国の歳出によってまかなわれるお金の割合が減った。
ウ 平成15年度は、県税の額は減っているが、歳入の総額は1.5倍に増えた。
エ 平成15年度は、歳入の総額は増えたが、国の歳出によってまかなわれるお金の割合も増えた。

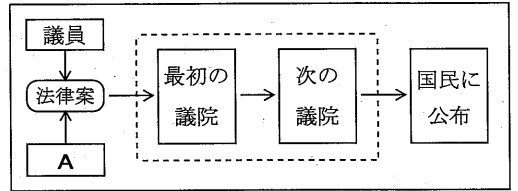
2 図1、2を見て、次の(1)～(4)の問いに答えなさい。

図1 三権分立のしくみ



- (1) 図1、2のAは、同じ機関を示している。Aにあてはまる機関を書きなさい。また、この機関が担当しているのは三権のどれか。書きなさい。
- (2) 図1のB、Cのはたらきにあてはまるものを、次のア～エから1つずつ選びなさい。
ア 最高裁判所長官を指名する。
イ 法律が憲法に違反していないか審査する。
ウ 最高裁判所の裁判官を審査する。
エ 弾劾裁判所を設け、裁判官を裁判する。
- (3) 図1の国会では、図2のような流れで法律案などの審議を行うが、議案の中には、日本国憲法により先議の議院を定めているものがある。その議案と最初に審議する議院を書きなさい。
- (4) わが国の国会は、図2のように、議員の任期や選出方法が異なる二つの議院により審議を行う二院制をとっている。二院制の長所を書きなさい。

図2 法律ができるまでの大きな流れ



3 資料2は、滋賀県が昨年実施した環境にやさしい買い物キャンペーンのポスターの一部である。このポスターでは、「マイバッグ持ってお買い物」、「わたしはNoレジ袋」とよびかけている。このような買い物は、環境を守るためのどのような取り組みとなるか。書きなさい。

資料2

